

受験番号	氏名

1

問1
ア イ ウ

エ

問2
1 2 3 4

問3
A B C

D E

問4
X Y Z

問5
① ② ③ ④ ⑤ ⑥

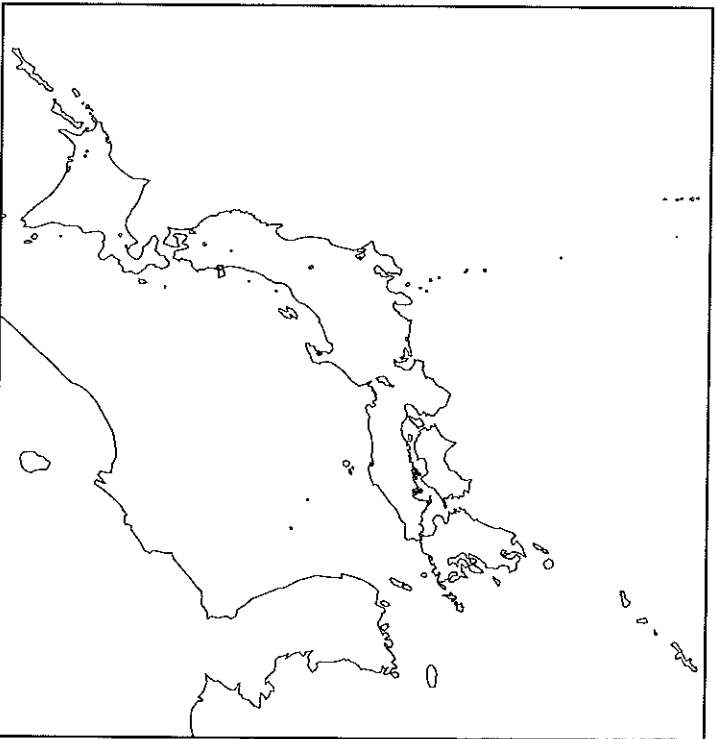
⑦ ⑧ ⑨ ⑩ ⑪

⑫ ⑬

2

問1
1 2 3 4

5 6

問2


問3
(1)

(2)

(3) (4)

問4
A B C D

問5
 問6

問7

問8

問9
(1) (2) (3) (4)

問10

⑩< >にあてはまる内容として正しいものを、次のア～エのなかから1つ選び、記号で答えなさい。

ア 国際連合への加盟を記念して中華人民共和国から贈られた

イ 国交の正常化を記念して中華人民共和国から贈られた

ウ 平和条約の締結を記念してアメリカ合衆国から贈られた

エ 安全保障条約の改定を記念してアメリカ合衆国から贈られた

⑪産地に限られる黒曜石の出土の分布から、縄文時代の人びとが行っていたどのようなことがわかるか、簡潔に答えなさい。

⑫弥生時代のころの周囲をほりでかこんだ集落を何というか、答えなさい。

⑬律令に基づく政治が行われていたところに北九州の警備について東国出身の兵士を何というか、漢字で答えなさい。

2

次の文章を読み、あとの問いに答えなさい。

2011年3月11日に①東北地方の沖合の(1)海溝付近で起こった地震によって②大規模な津波が発生し、各地に大きな被害をもたらしました。津波の影響で起こった原子力発電所の事故による放射性物質の拡散は、今後の③エネルギー政策や我々の生活のありかたを考える議論のきっかけとなりました。

震災からの復興費用や、歳出で最も大きな割合を占めている(2)関係費などをまかなうために増税をすべきかどうかとも議論になっています。政府は、震災復興には直接税である(3)税や法人税の一時的な増税で、また(2)関係費の増加には間接税である(4)税の増税で対応する方針を示しています。景気が低迷する中で増税を行うべきではないという意見がある一方で、国の借金を今以上に増大させないためには増税を実施するしかないという意見もあります。

厳しい財政の中で、増税に頼るだけでなく、歳出の無駄を減らすべきだという意見もあります。たとえば④八ッ場ダムは、巨額の建設費用がかかるのに対して、このダムを造らなくても水は十分に足りていると判断され、2011年夏の時点では⑤ダム本体の建設工事が中断されています。しかし八ッ場ダムには、⑥貯めた水を利用する以外にも目的があるため、中止せずに建設を進めるべきだという意見もあります。

大きな議論になっている問題は、ほかにもあります。日本がTPPに加盟すべきかどうか、そのひとつです。TPPは「(5)パートナーシップ協定」などと訳されています。加盟国間で⑦関税を撤廃したり環境や労働の規制を統一したりして経済的な連携を深める協定です。2006年に4か国の加盟で発効しました。この4か国に加えて、その後、(6)、⑧オーストラリア、マレーシア、ベトナム、ペルーが加盟を表明しました。日本政府は経済連携のプラス面が大きいとして加盟交渉に参加する意向を表明していますが、⑨国内の農業関係者などからは加盟に反対する声が上がっています。

今、我々は、これからどのような社会を目指していくのかを決める、大きな分かれ道に立っているのかもしれない。

問1 文章中の空らん(1)～(6)にあてはまる語句をそれぞれ答えなさい。

問2 下線部①に関連して、東北地方の沖合には、暖流と寒流が流れています。東北地方の沖合を含めた、解答用紙にある地図の範囲内を流れる海流を矢印(→)で書き込み、それぞれの海流の名称と、その海流が暖流か寒流かを、「○○海流(暖流)」「△△海流(寒流)」のように示しなさい。1つの海流を示す矢印は、1本で示すこと。

問3 下線部②に関連して、次の(1)～(4)に答えなさい。

(1) 次のページの<図1>は、津波による大きな被害を受けた、宮城県の気仙沼漁港周辺を表した5万分の1地形図です(地形図に表されているのは、地震や津波の被害を受ける前の様子です)。

この地形図中に見られる海岸の地形は何と呼ばれるか、答えなさい。

(2) <図1>を見ると、この場所で、わかめやかきなどの養殖が盛んに行われていたことがわかります。この場所がわかめやかきなどの養殖に適している理由を、1つ答えなさい。

(3) <図1>から読み取れることとして誤っている文を、次のア～エから1つ選び、記号で答えなさい。

- ア 地名に「鼻」がついている場所は、陸地が海に突き出している場所である。
- イ 「大島」の南北の長さは、およそ20kmである。
- ウ 気仙沼の中心市街地は、川の河口近くに形成されている。
- エ 図の範囲内で最も高い場所の標高は、200m以上ある。

(4) 津波に関する説明として適切な文を、次のア～エから1つ選び、記号で答えなさい。

- ア 津波とは、「巨大な波」という意味である。
- イ 津波は、地震のほか、台風によっても発生する。
- ウ 海岸付近で急に水深が浅くなると、津波の高さは高くなる。
- エ 津波は最初に来る波が最も大きく、第二波以降はだんだん小さくなる。

問5 文章中の下線部①～③に対応する以下の問いに答えなさい。

①ヤン・ヨーステンの屋敷があった時期にもっとも近いできごとを、次のア～エのなかから1つ選び、記号で答えなさい。

- ア 徳川家康が江戸に幕府を開いた。
- イ 近松門左衛門が人形芝居の脚本家として活躍した。
- ウ 杉田玄白らがオランダ語の医学書を翻訳した。
- エ 井伊直弼が桜田門の外で殺害された。

②原敬内閣が成立する背景となった民衆運動の名称を答えなさい。

③丸の内にオフィス街ができる以前の様子を述べた文として正しいものを、次のア～エのなかから1つ選び、記号で答えなさい。

- ア 大名の屋敷が多く集まっていた。
- イ 町人の屋敷が多く集まっていた。
- ウ 田畑が広がっていた。
- エ 森林が広がっていた。

④日本国憲法で定められた天皇の仕事として誤っているものを、次のア～エのなかから1つ選び、記号で答えなさい。

- ア 衆議院を解散すること。
- イ 外国と条約を結ぶこと。
- ウ 国会を召集すること。
- エ 内閣総理大臣を任命すること。

⑤東京オリンピックが行われた年におきたできごとを、次のア～エのなかから1つ選び、記号で答えなさい。

- ア 沖縄の返還
- イ テレビ放送の開始
- ウ 東海道新幹線の開通
- エ 日本万国博覧会の開催

⑥五街道の一つである中山道の最初の宿場町を漢字で答えなさい。

⑦秋葉原に存在した市場が主に扱っていた品目を、次のア～エのなかから1つ選び、記号で答えなさい。

- ア 魚
- イ 米
- ウ 肉
- エ 野菜

⑧将軍に仕えた下級武士の名称を、次のア～エのなかから1つ選び、記号で答えなさい。

- ア 旗本
- イ 御家人
- ウ 親藩
- エ 外様

⑨フランスについて述べた文として正しいものを、次のア～エのなかから1つ選び、記号で答えなさい。

- ア 江戸時代の終わりごろ、幕府はフランスと修好通商条約を結んだ。
- イ 日清戦争後、フランスはロシアの勢力拡大をおさえるために日本と同盟を結んだ。
- ウ 日露戦争後、日本はフランスの憲法を手本にして大日本帝国憲法をつくった。
- エ 大正時代の終わりごろ、日本はフランスから石炭や鉄鉱石を輸入していた。

博物館が管理する記念館には、明治時代に⑨フランスに留学して洋画を学んだ（ E ）の作品「湖畔」などが所蔵されています。また、2011年には上野動物園へ数年ぶりにジャイアントパンダがやってきたことが話題になりました。上野動物園でのジャイアントパンダの飼育は、⑩< >のはじまりです。

上野駅を出発すると、電車は 鶯谷駅・日暮里駅・西日暮里駅・田端駅の順に停車していきます。西側には（ 4 ）台地が続いています。台地の上には、現在でも（ ウ ）が数多く集まっており、江戸時代のころ、このあたりが（ ウ ）社地だったことをうかがわせます。

（ 4 ）台地の上にはさまざまな遺跡が発見されています。日暮里駅の西側にある延命院貝塚は縄文時代の貝塚で、貝がらや動物の骨にまじって、（ エ ）とよばれる土でできた人形や⑪黒曜石でできた矢じりなどが発見されました。西日暮里駅の西側には道灌山遺跡があります。開成学園のグラウンドからも弥生時代の竪穴住居のあとが発見されています。道灌山遺跡では⑫弥生時代のV字形をしたほりが見つかっており、集落のまわりはほりで囲まれていたと考えられています。また、田端駅の北側の台地上にある御殿前遺跡は、⑬律令に基づく政治が行われていたころの役所である豊島郡衙にあたります。御殿前遺跡からは、税のひとつである（ オ ）として徴収された品物を保管しておく正倉のあとなどが見つかっています。

問1 文章中の空らん（ ア ）～（ オ ）にあてはまる語句をそれぞれ答えなさい。


問2 文章中の空らん（ 1 ）～（ 4 ）にあてはまる地名をそれぞれ答えなさい。
（ 4 ）以外は漢字で答えること。

問3 文章中の空らん（ A ）～（ E ）にあてはまる人名をそれぞれ答えなさい。

問4 文章中の波線部(X)～(Z)について、(X)の古書店街がつけられた時期、(Y)の電気街が発展した時期、(Z)の商店街がつけられた時期を、次のア～オのなかからそれぞれ1つ選び、記号で答えなさい。なお、同じ記号をくりかえし答えてもよい。

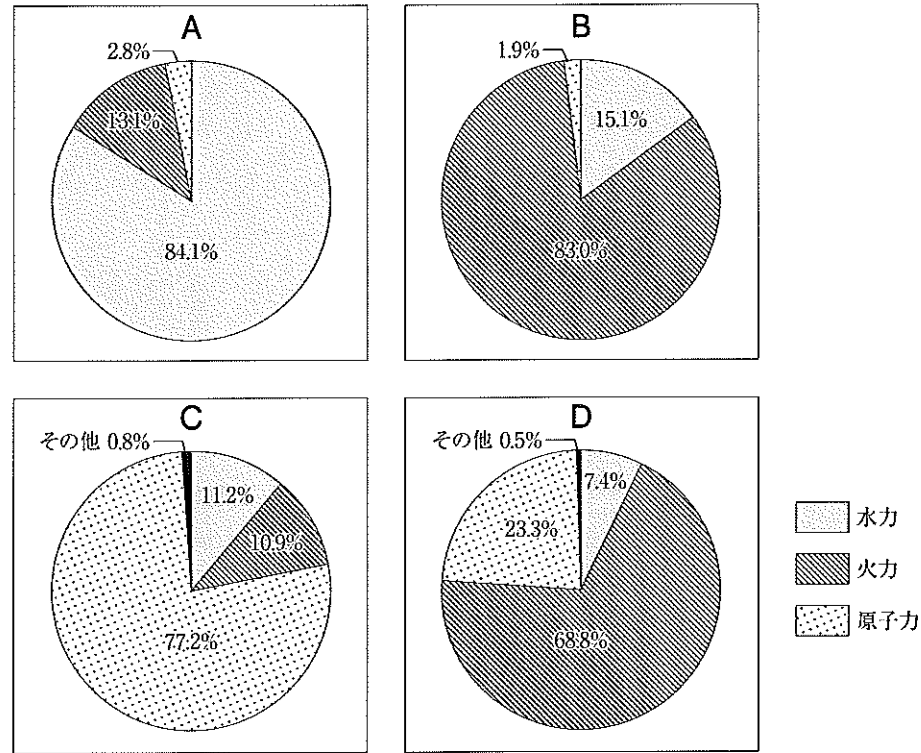
- | | | |
|----------|----------|----------|
| ア 1880年代 | イ 1910年代 | ウ 1940年代 |
| エ 1960年代 | オ 1980年代 | |

<図1>国土地理院発行5万分の1地形図「気仙沼」「津谷」の一部

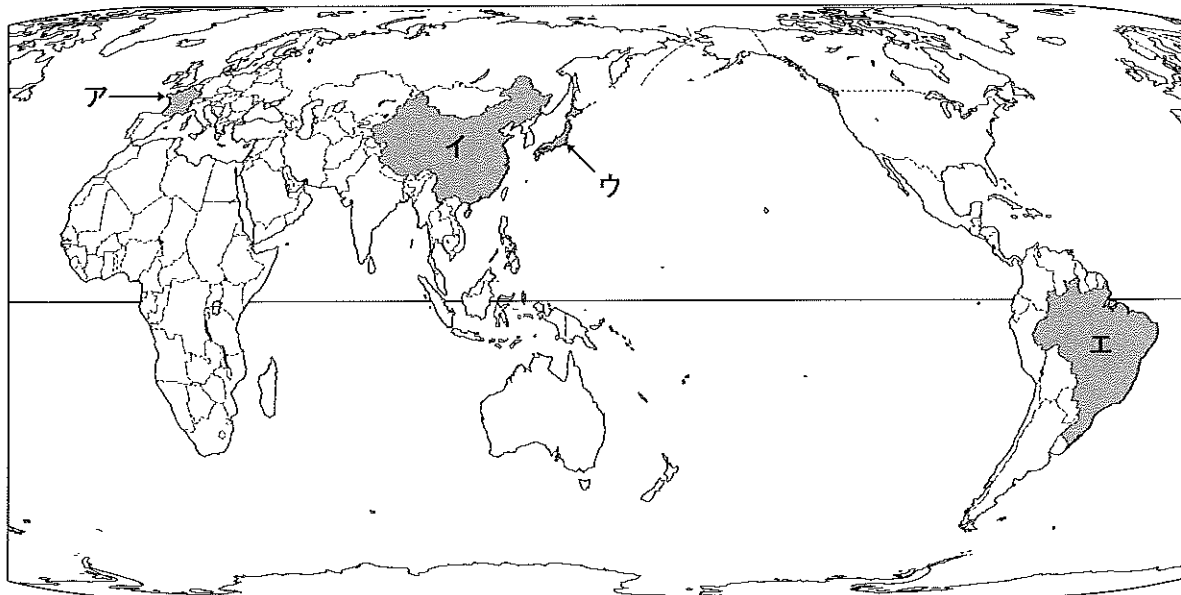


注：問題作成の都合上、一部改変してあります。

問4 下線部③に関連して、次のA～Dのグラフは、下の<図2>中に示した4か国の、2007年における発電量の内訳を示したものです。A～Dの国をそれぞれ<図2>中のア～エから選び、記号で答えなさい。



<図2>



1 次の文章を読み、あとの問いに答えなさい。

東京駅に行ってみました。東京駅の東側には八重洲口があります。八重洲という地名は、①江戸時代のころ、オランダ人ヤン・ヨーステンの屋敷があったことに由来するそうです。東京駅の西側には丸の内口があります。丸の内口には、②大正時代に最初の本格的政党内閣を組織した原敬首相が暗殺された現場を示す説明板が掲げられています。③丸の内口を出るとオフィス街が広がっており、正面には④天皇の住まいなどがある皇居が見えます。

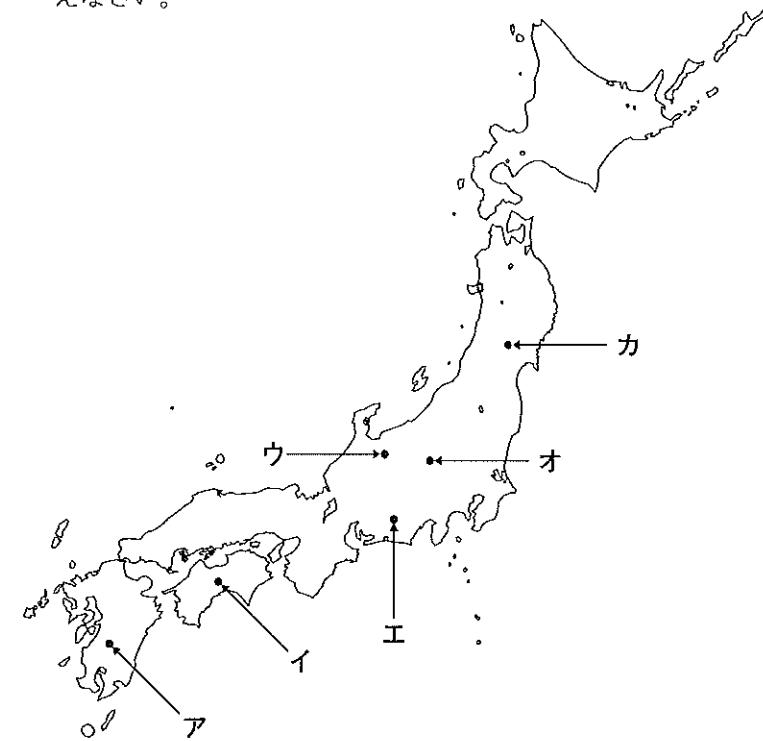
東京駅から田端駅に向かう電車に乗ってみました。東京駅を出発してまもなく、電車は(ア)の下をくぐりますが、その下には(1)川が流れています。⑤東京オリンピックが行われたころ、川の流路に沿って(ア)がつくられたためです。⑥江戸時代の五街道の起点とされた(1)は、(1)川にかかる橋です。現在の(1)は明治時代の終わりにかけられたもので、橋柱に書かれた文字は大政奉還を行った最後の将軍(A)が書きました。江戸時代の(1)の様子は、浮世絵師(B)の作品「東海道五十三次」のなかに描かれています。

次の駅は(2)駅です。(2)とよばれる地域には(X)古書店街があります。このあたりに学校が数多くつくられたころ、学生をターゲットに古書店が次々とできたのがそのはじまりとされています。(2)駅を出発した電車は、(2)川をわたって秋葉原駅に到着します。秋葉原は、家電製品の量販店などが集まっている(Y)電気街として世界的に有名です。電気街が発展したのは、家電製品が急速に広まったころのことです。また、秋葉原には平成の初めに移転するまでは⑦江戸時代以来の流れをくむ市場がありました。なお、このあたりにある(2)明神は、平安時代に関東で初めて武士の反乱をおこした(C)をまつた神社として知られています。

秋葉原駅の次は御徒町駅です。御徒町という地名は、⑧江戸時代のころ、馬に乗ることを許されない下級武士である御徒が多く住んでいたことに由来します。次の上野駅に向かう高架下と西側にはアメヤ横丁とよばれる(Z)商店街が広がっています。アメヤ横丁の成り立ちは、人々の移動や物流の拠点であった上野駅を中心に発生した闇市が発端といわれています。また、御徒町駅と上野駅の間にある西側の大通り周辺は、上野(イ)とよばれています。江戸時代のころに火事をさけるためにつくられた幅の広い道路に由来する地名です。

上野駅は、東京の「北の玄関口」としての機能を果たしてきました。昭和の初めに開通した日本で最初の地下鉄は、上野駅と(3)駅の間を結んでいました。上野駅の西側には(4)台地がせまっており、台地の上に上野公園が広がっています。上野公園には、西南戦争をおこして敗れた(D)の銅像がたっています。上野公園とその周辺には、博物館・美術館・動物園といった文化施設が集まっています。たとえば、東京国立博

問5 下線部④に関連して、ハッ場ダムの位置を次の地図中のア～カから選び、記号で答えなさい。



問6 下線部⑤に関連して、ダムの建設を管轄する官庁名を答えなさい。

問7 下線部⑥に関連して、発電や用水の利用以外のダム建設の目的を、1つ答えなさい。

問8 下線部⑦に関連して、関税とはどのような税か、簡潔に答えなさい。

問9 下線部⑧に関連して、2010年において

- (1) 日本がオーストラリアへ輸出した金額が最も大きかった品目
- (2) 日本がオーストラリアから輸入した金額が最も大きかった品目
- (3) 日本がマレーシアへ輸出した金額が最も大きかった品目
- (4) 日本がマレーシアから輸入した金額が最も大きかった品目

を、それぞれ次のア～キから選び、記号で答えなさい。

ア 石炭 イ 原油 ウ 液化天然ガス エ 鉄鉱石
オ 鉄鋼 カ 機械類 キ 自動車

このページは白紙です。

問10 下線部⑨に関連して、農業関係者の団体がT P Pへの加盟に反対する理由を、説明しなさい。

このページより後ろは白紙です。

このページは白紙です。

このページは白紙です。

F 社 会 (40分)

答えはすべて **解答用紙** に書き入れること。

【この冊子について】

1. 試験開始の合図があるまで、この冊子に手をふれてはいけません。
2. この冊子は、初めに3ページ白紙があります。問題は1～9ページです。
3. 解答用紙は、冊子の中央(4～5ページの間)にはさまっています。試験開始の合図後、取り出して解答してください。
4. 試験中に印刷のかすれやよごれ、ページのぬけや乱れ等に気づいた場合は、静かに手を挙げて先生に知らせてください。
5. 試験中、冊子がバラバラにならないように気をつけてください。

【試験中の注意】 以下の内容は、各時間共通です。

1. 試験中は先生の指示に従ってください。
2. 試験中、机の中には何も入れないこと。荷物はイスの下に置いてください。
3. 先生に申し出ればコート・ジャンパー等の着用を許可します。
4. かぜ等の理由でハンカチやティッシュペーパーの使用を希望するときは、先生の許可を得てから使用してください。
5. 試験中に気持ちが悪くなったり、どうしてもトイレに行きたくなったりした場合は、静かに手を挙げて先生に知らせてください。
6. 試験中、机の上に置けるのは、次のものだけです。これ以外の所持品を置いてはいけません。
 - ・受験票
 - ・黒しんのえん筆または黒しんのシャープペンシル (ボールペンとしても使えるものは不可)
 - ・消しゴム ・コンパス
 - ・直定規 (分度器の機能が付いているものは不可) ・三角定規一組 (10cm程度が目盛り付き)
 - ・時計 ・メガネ筆箱も机の上には置けませんので、カバンの中に入れてください。
7. 終了のチャイムが鳴り始めたら、ただちに筆記用具を置いてください。
8. 答案を回収し終えるまで、手はひざの上に置いてください。